

2024

## CHEMISTRY — MINOR

Paper : MN-2

(Chemistry Minor - II)

Full Marks : 75

Candidates are required to give their answers in their own words  
as far as practicable.

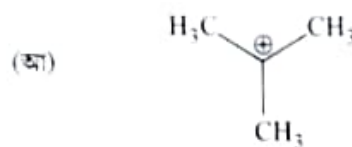
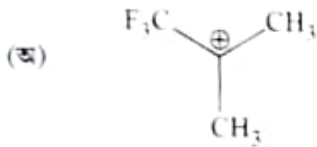
প্রাপ্তলিখিত সংখ্যাগুলি পূর্ণমান নির্দেশক।

প্রশ্নসংখ্যা ১, ২, ৩ ও ৪ (বাধ্যতামূলক) এবং অবশিষ্ট থেকে যে-কোনো চারটি-র (প্রশ্নসংখ্যা ৫ থেকে ১০) উত্তর লেখো।

১। যে-কোনো দশটি প্রশ্নের উত্তর দাও :

২০১০

- (ক) ম্যাক্সওয়েলের ত্রিমাত্রিক আণবিক গতিবিন্যাসের সাহায্যে 300 K তাপমাত্রায় হাইড্রোজেন গ্যাসের অণুর R.M.S গতিবেগ নির্ণয় করো।
- (খ) NaCl-এর গলনাঙ্ক AlCl<sub>3</sub>-এর গলনাঙ্কের তুলনায় বেশি। ব্যাখ্যা করো।
- (গ) আলোক সক্রিয়তার সংজ্ঞা লেখো। একটি আলোক সক্রিয় যৌগের উদাহরণ দাও।
- (ঘ) গ্যাসের সনেনমাতা গুণক (Compressibility factor)  $z$  বলতে কী বোঝো? বাস্তব গ্যাসের (উদাহরণস্বরূপ কার্বন ডাইঅক্সাইড গ্যাস) জন্য চাপের সঙ্গে ইহার পরিবর্তনের সমোচ্ছবেদ্য অঙ্কন করো।
- (ঙ) জলীয় দ্রবণে সালফেট মূলক (SO<sub>4</sub><sup>2-</sup> radical) কীভাবে শনাক্ত করবে তা লেখো।
- (চ) নিম্নলিখিত কার্বোক্যাটায়ন দুটির ব্যাখ্যাসহ স্থায়িত্ব তুলনা করো :



- (খ) একটি গ্যাস অণুর 'গড় মুক্ত পথ' (Mean free path)-এর সংজ্ঞা দাও। 'গড় মুক্ত পথ' কীভাবে চাপ ও তাপের উপর নির্ভরশীল?
- (ঙ) কার্বন ডাইঅক্সাইডের দ্বিমেরু ভ্রামকের মান (dipole moment) শূন্য কিন্তু জলের দ্বিমেরু ভ্রামকের (dipole moment) মান 1.85 D। ব্যাখ্যা করো।
- (ঘ) একটি সঠিকভাবে চিহ্নিত (properly labelled) দ্বিধাপীয় তাপ উৎপাদক বিক্রিয়ার শক্তি পরিলেখ চিত্র (Energy profile diagram) অঙ্কন করো, যার প্রথম ধাপটি হল বিক্রিয়াটির গতি নির্ণায়ক ধাপ। (কেবল চিহ্নিত শক্তি পরিলেখ চিত্রটি অঙ্কন করবে)

Please Turn Over

১) নিম্নলিখিত কোন বাহ্যিকজনিত প্রতিক্রিয়া (Intermolecular interaction) তাপমাত্রার উপর নির্ভরশীল:

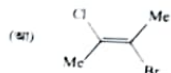
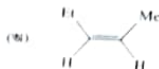
(ক) Keelson প্রতিক্রিয়া (Keelson interaction)

(খ) Debye প্রতিক্রিয়া (Debye interaction)

(গ) হোমার উল্লেখের বাধ্য লেখা:

(১) NaI লেজনে দ্রাব্য কিন্তু NaCl নয়। ব্যাখ্যা করো।

(২) নিম্নলিখিত যৌগগুলির // // হিসাবে চিহ্নিত করো:



২) সজ্জিত টীকা লেখো:

(ক) 'আয়ড্রজের কার্বন ডাইঅক্সাইড এর PV সমতাপীয় বেহাচিত্র' (নিম্নলিখিত বিষয়গুলি অনুসরণ করে)

(অ) বিভিন্ন উষ্ণতায় সমতাপীয় বেহাচিত্রের আকৃতি

(আ) সাক্টে উষ্ণতার উপরে ও মীটে বেহাচিত্রের আকৃতিতে তফাত ক

অথবা,

(খ) 'শক্তির সমবন্টন নীতি' (নিম্নলিখিত বিষয়গুলি অনুসরণ করে)

(অ) বিবৃতি (statement) ও ব্যাখ্যা (explanation)

(আ) জল ও কার্বন ডাইঅক্সাইড অণুর  $C_p$  মান।

(১+২)+(১+১)

৩) সজ্জিত টীকা লেখো:

(ক) 'বায়ার অনুপাত নীতি' (Radius ratio rule) (নিম্নলিখিত বিষয়গুলি অনুসরণ করে)

(অ) সীকৃত ক্রম (Assumptions) (যে কোনো দুটি)

(আ) 'Octahedral crystal lattice' এর limiting radius ratio-র মান

(ই) যে কোনো দুটি ব্যবহারিক উপযোগিতা:

২+১+২

অথবা,

(খ) 'ফাজানের নিয়মাবলী' (Fajan's rules) (নিম্নলিখিত বিষয়গুলি অনুসরণ করে)

(অ) তিনটি নিয়ম

(আ) যে কোনো দুটি স্বার্থ উল্লেখক

৩+২

৪) সজ্জিত টীকা লেখো:

(ক) 'মাইক্রোস্কোপিক পলাবর্ত প্রিমা' (Microscopic reversible reactions) (নিম্নলিখিত বিষয়গুলি অনুসরণ করে)

(অ) সজ্জ

(আ) যে কোনো দুটি স্বার্থ উল্লেখক

২+৩

অথবা,

(খ) 'হামন্ডের সীকার' (Hammond's postulates) (নিম্নলিখিত বিষয়গুলি অনুসরণ করে)

(অ) 'ফ্রিডারিস বিবৃতি

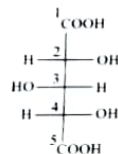
(আ) তাপ উৎপাদক এবং তাপগ্রহী বিক্রিয়ার শক্তি পরিলেখ চিত্রের (Energy profile diagram) দ্বারা উপরোক্ত ফ্রিডারিস বিবৃতি (কেবলমাত্র শক্তি পরিলেখ চিত্রটি অঙ্কন করবে ও চিহ্নিত করবে)

৩+(১+১)

৫) মাস্কওয়ালের ত্রিমাত্রিক অণবিক গতিবিদ্যাসূত্রের সমীকরণটি লেখো এবং এই সমীকরণ থেকে গ্যাসীয় অণুগুলির গড় গতিবেগ নির্ণয় করো।

(খ) 'Qualitative Inorganic Analysis'-এ দুটি বিদ্যুৎসূচিকারী আয়নিত মূলকের নাম লেখো। কোন এগুলিকে বিদ্যুৎকারী মূলক বলা হয়? কোন group analysis করার পূর্বে এগুলিকে অপসারণ করা প্রয়োজন?

(গ) নিম্নলিখিত যৌগটিতে C-2, C-3 ও C-4 পরমাণুগুলিকে কইরোটিক/কইরোটিক (chiroptic/achiroptic) এবং স্টিরিওজেনিক/নন-স্টিরিওজেনিক (stereogenic/non-stereogenic) কশে বিবৃত করো।



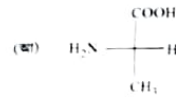
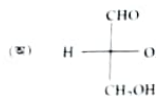
(১+৩)+(১+১+১)+৩

৬) (ক) বর্ন-হোবার চক্রের সাহায্যে সোডিয়াম ক্রোমাইড কোলাসের 'ল্যাটিস শক্তি' (lattice energy) 'র মান নির্ণয় করো।

[প্রদত্ত  $\Delta H_{\text{sub}}(\text{Na}) = -110 \text{ kJ mol}^{-1}$ ;  $\Delta H_{\text{f}}(\text{Na gas}) = 494 \text{ kJ mol}^{-1}$ ;  $\Delta H_{\text{D}}(\text{Cl}_2 \text{ gas}) = 242 \text{ kJ mol}^{-1}$ ;

$\Delta H_{\text{f}}(\text{AlCl gas}) = -347 \text{ kJ mol}^{-1}$ ;  $\Delta H_{\text{f}}(\text{NaCl}) = -414 \text{ kJ mol}^{-1}$ ]

(খ) নিম্নলিখিত যৌগগুলির DL এবং RS গঠন নির্ণয় করো। RS গঠনের ক্ষেত্রে লিগান্ড বা গ্রুপগুলির অগ্রাধিকার ক্রম উল্লেখ করো।



(গ) van der Waals সমীকরণের সাহায্যে প্রমাণ করো :  $\frac{RT_c}{P_c V_c} = \frac{8}{3}$  8-(1+1+1)=3

৭। (ক) অ্যাসোসিয়ার্টেড একটি জৈব অম্লের বেসিকিক মিলন থেকে কীভাবে নেমেশওয়ার দুটিকে পৃথক করবে তা একটি উপযুক্ত উদাহরণ সহকারে দেখাও।

(খ) ম্যাক্সওয়েলের ঘনমাত্রিক প্রতিবিম্বাস সমীকরণটিকে পরিশুদ্ধবিম্বাস সমীকরণে (Kinetic energy distribution) রূপান্তরিত করে।

প্রমাণ : ম্যাক্সওয়েলের ঘনমাত্রিক প্রতিবিম্বাস সমীকরণ :  $\frac{1}{N} \frac{dN_i}{dV} = 2n \left( \frac{m}{2\pi kT} \right)^{3/2} e^{-\frac{mv^2}{2kT}}$

(গ) সম অয়ন প্রভাবের ক্ষেত্রে বসে। এই প্রভাবের সাহায্যে কীভাবে গ্রুপ-III A এর বিভিন্ন ধাতব অয়নকে (inorganic qualitative analysis) এর সময় পৃথকীকরণ করা হয়? 8+3=3

৮। (ক) বয়েলের প্রাথমিক ধারণা : একটি van der Waals গ্যাসের ক্ষেত্রে বয়েল তাপমাত্রার expression-টি নির্ণয় করে।

(খ) VSEPR তত্ত্বের সাহায্যে  $SF_4$  এবং  $XeF_4$  অণু দুটির আকার বর্ণনা করে।

(গ) নিচেরিখিত কার্বোক্যাটায়নটির ক্যানোনিকাল ফর্মগুলি লেখো এবং সর্বশ্রেষ্ঠ অবস্থানকারী ক্যানোনিকাল ফর্মটি বৃদ্ধির মাত্রা নির্ণয় করে :



৯। (ক) কাছাসহ Bent এর সূত্রটি বিবর্ত করে। Bent-এর সূত্রের সাহায্যে  $PCl_2F_2$  এবং  $PCl_2F_3$  অণু দুটির পদম অঙ্কন করে।

(খ) বিচ্ছিন্ন সূত্রান্তের মিয়ানের ক্লোরিনেশন (Chlorination) প্রক্রিয়াটির ক্রিয়াশীলতা বর্ণনা করে।

(গ) van der Waals সমীকরণটিকে virial সমীকরণে রূপান্তরিত করে এবং দ্বিতীয় virial সহগ (second virial coefficient) টি নির্ণয় করে [2-(1+1)]-(1+1+1)

১০। (ক) রেসিমাইজেশন (racemisation) প্রক্রিয়ার সম্ভাব্য লক্ষ্যে কার্বোক্যাটায়ন দ্বারা সংঘটিত রেসিমাইজেশন প্রক্রিয়ার একটি উদাহরণ লও।

(খ) ম্যাক্সওয়েলের ঘনমাত্রিক প্রতিবিম্বাস সমীকরণ থেকে সর্বশ্রেষ্ঠ সম্ভাব্য বেগের (most probable velocity) সমীকরণ expression-টি নির্ণয় করে।

(গ) অক্সালিক অম্লকে কীভাবে প্রস্তুত ও প্রস্তুত করে এবং এর মূল বৈশিষ্ট্য সংক্রান্ত তিনটি উদাহরণ লও। (2+2)+3=3



[English Version]

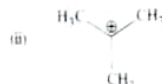
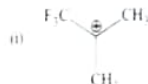
The figures in the margin indicate full marks

Answer question nos. 1, 2, 3 & 4 (compulsory) and any four from the rest (question nos. 5 to 10).

1. Answer any ten questions

2+10

- Calculate the R.M.S. speed of molecules of hydrogen gas at 300 K using three-dimensional Maxwell distribution of molecular speed.
- Melting point of NaCl is greater than that of AlCl<sub>3</sub>. Explain.
- Define optical activity. Give example of an optically active compound.
- What is compressibility factor (z) of a gas? For a real gas (e.g., carbon dioxide), draw an isotherm indicating its variation with pressure.
- How can you detect sulphate (SO<sub>4</sub><sup>2-</sup>) radical in aqueous solution?
- Compare the stabilities between the following pair of carbocations with explanation.



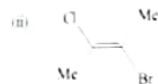
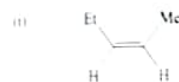
- Define mean free path of a gas molecule. How does the mean free path depend on temperature and pressure?
- The dipole moment of carbon dioxide is zero but that of water is 1.85 D. Explain.
- Draw the properly labelled energy profile diagram of a two-step exothermic reaction, where first step is the rate determining step. (Draw the labelled energy profile diagram only).
- Which of the following intermolecular interactions depends on temperature?

- Keesom interaction
- Debye interaction

Explain your answer.

(k) NaI is soluble in benzene but NaCl not. Explain the observation.

(l) Assign E, Z notation to the following compounds



2. Write short note on

(a) Andrews curves for carbon dioxide (P-V isotherms) using the following points:

- The nature of isotherms at different temperatures
- The difference in the nature of the curves obtained above and below the critical temperature

2+3

Or,

(b) Principle of equipartition of energy using the following points:

(i) Statement and explanation

(ii)  $\frac{C_p}{C_v}$  value for water and carbon dioxide molecules.

(1+2)+(1+1)

3. Write short note on

(a) 'Radius ratio rule' using the following points

- Assumptions (any two)
- Limiting radius ratio value for octahedral crystal lattice
- Any two applications.

Or,

2+1+2

(b) 'Fajan's rules' using the following points

- Three rules
- Any two proper examples

3+2

4. Write short note on

(a) 'Microscopic reversible reactions' using the following points:

- Definition
- Any two proper examples.

Or,

2+3

(b) 'Hammond's postulate' using the following points:

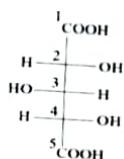
- Statement of postulate
- Explanation of the postulate through energy profile diagram corresponding to an exothermic reaction and an endothermic reaction. (Draw the labelled energy profile diagram only).

3+(1+1)

5. (a) Write down the Maxwell distribution of molecular speed expression in three dimension and determine the value of the average speed of the gas molecules from this expression.

(b) Name any two interfering acid radicals in qualitative inorganic analysis. Why are they called so? Before which group analysis these radicals need to be removed?

(c) In the following compound, designate C-2, C-3 and C-4 as chirotopic/achirotopic and stereogenic/non-stereogenic.

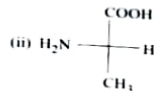
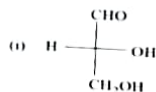


(1+3)+(1+1+1)+3

6. (a) Calculate the lattice energy value of sodium chloride crystal using Born-Haber cycle.

[Given:  $\Delta H_{\text{sub}}(\text{Na}(s)) = 110 \text{ kJ/mol}$ ;  $\Delta H_{\text{f}}(\text{Na}(g)) = 494 \text{ kJ/mol}$ ;  $\Delta H_{\text{D}}(\text{Cl}_2(g)) = 242 \text{ kJ/mol}$ ,  
 $\Delta H_{\text{f}}(\text{NaCl}(g)) = -347 \text{ kJ/mol}$ ;  $\Delta H_{\text{f}}(\text{ion}(\text{NaCl})) = -414 \text{ kJ/mol}$ ]

(b) Assign *D/L* and *R/S* configurations of the following compounds. In case of *R/S* configuration, show the priority sequence of the ligands or groups.



(c) Starting from van der Waals equation prove that  $\frac{RT_c}{P_c V_c} = \frac{8}{3}$

4+(1+1+1)+3

7. (a) How will you resolve a racemic mixture of an optically active organic acids into constituent enantiomers? Show the process with a suitable example.

(b) Convert Maxwell's distribution of molecular speed in two dimension into kinetic energy distribution

[Given: Maxwell's 2D speed distribution equation:  $\frac{1}{N} \frac{dN}{dC} = 2\pi \left( \frac{m}{2\pi kT} \right) e^{-\frac{mc^2}{2kT}} C$ ]

(c) What is common ion effect? How does this effect help to separate different metal ions in group-IIIa during inorganic qualitative analysis?

4+3+3